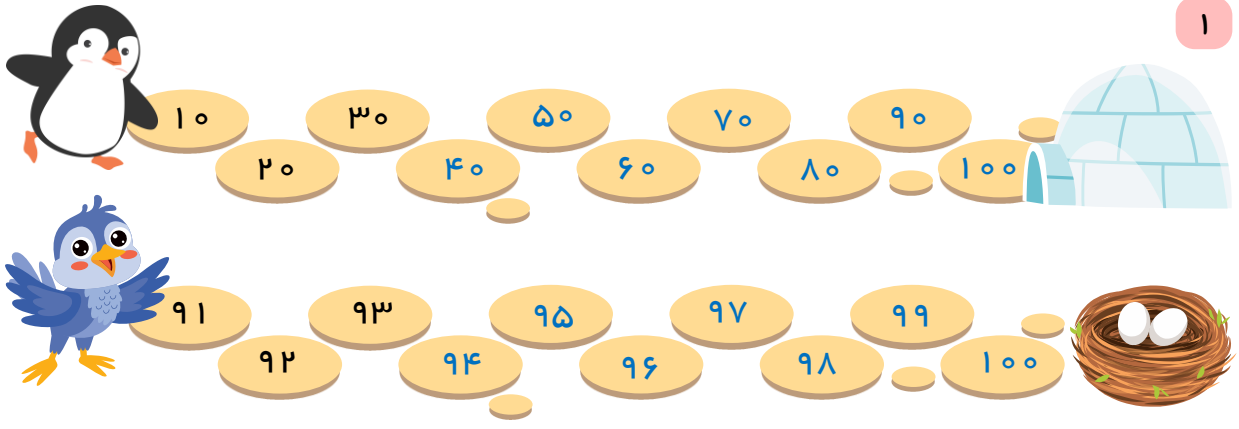


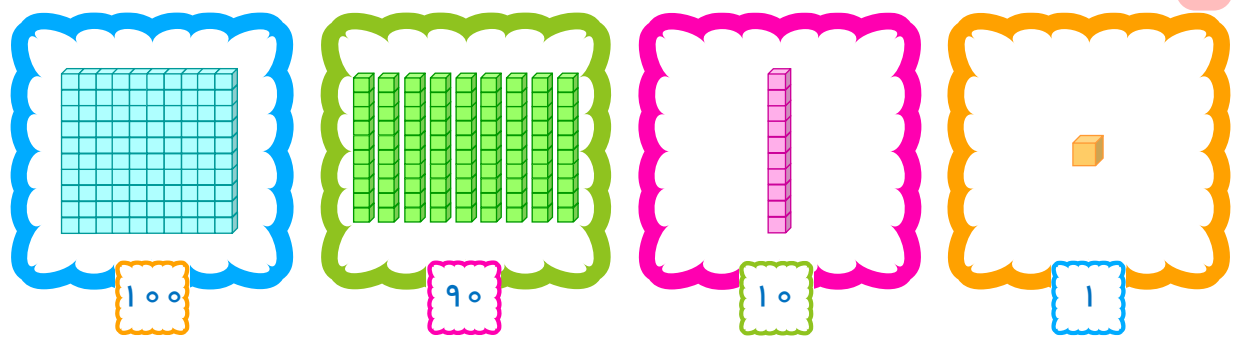
فصل چهارم عددهای سه رقمی

معرفی پول


۱



۲



۳



۵۰ سکه یک ریالی می شود ۵۰ ریال، یعنی ۵ تا سکه ۱۰ ریالی

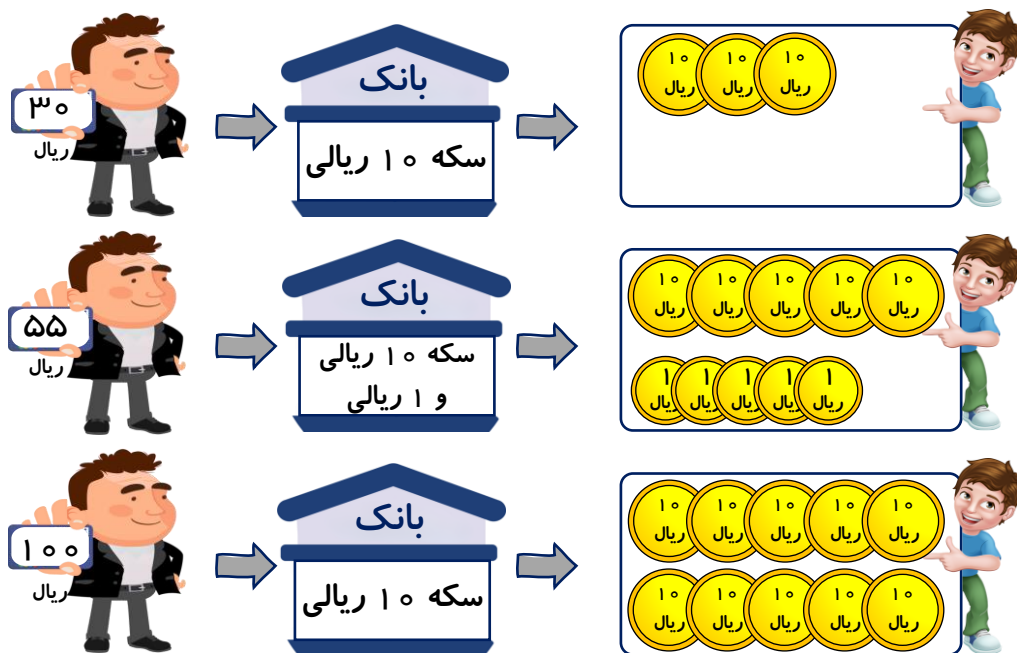
۹۰ سکه یک ریالی می شود ۹۰ ریال، یعنی ۹ تا سکه ۱۰ ریالی

یک سکه ۱۰۰ ریالی می شود ۱۰۰ ریال، یعنی ۱ تا سکه ۱۰ ریالی

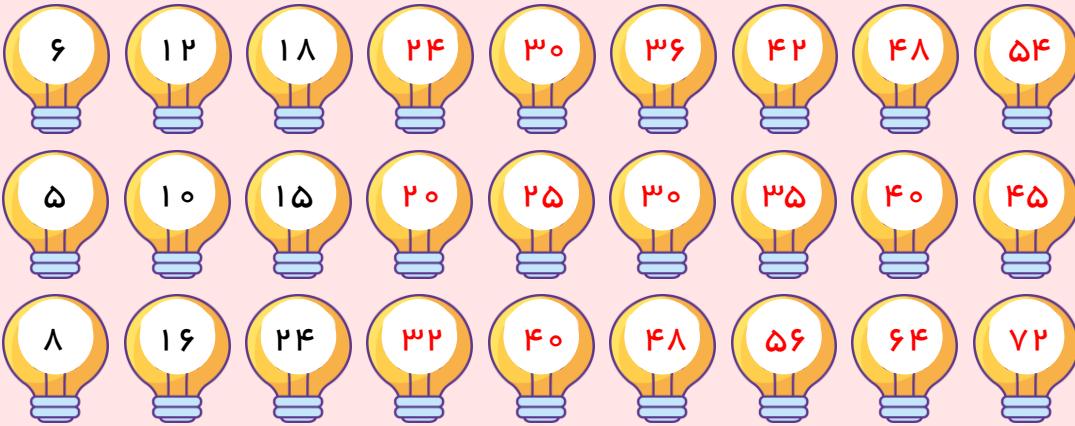
۱۰ سکه ۱۰ ریالی می شود ۱۰۰ ریال، یعنی ۱ تا سکه ۱۰۰ ریالی

۱۰ سکه ۱۰ ریالی می شود ۱۰۰ ریال، یعنی ۱۰۰ تا سکه ۱ ریالی

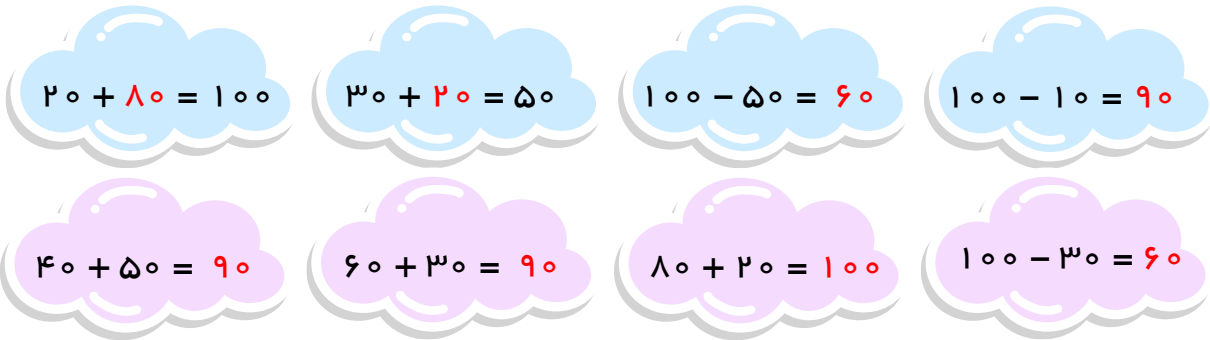
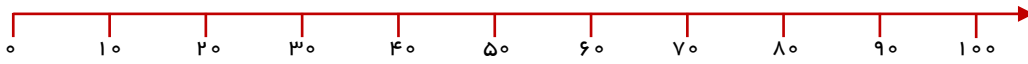
۵ او ۱۰۰ ریال پول دارد.



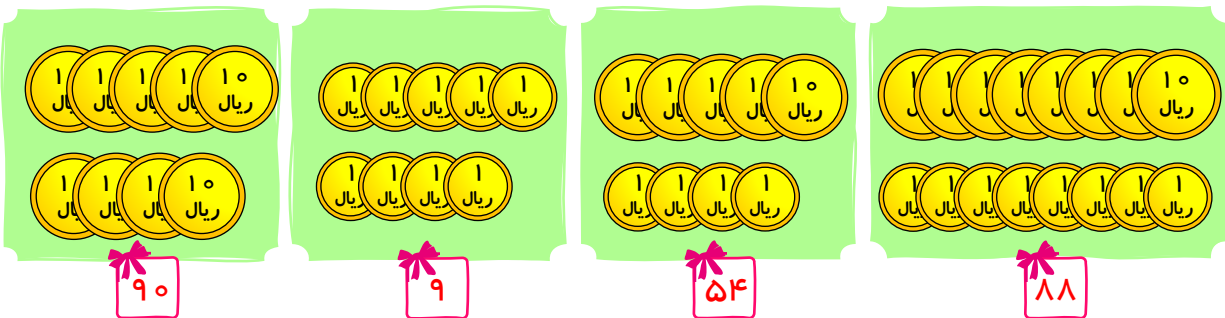
۷



۸



۹



۱۰



$$100 - 20 = 80$$

۱۱ برادر کوروش ۸۰ ریال دارد.

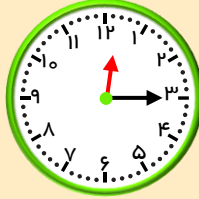
$$100 - 70 = 30$$

۱۲ برای خرید مداد ۳۰ ریال دیگر باید پس انداز کند.

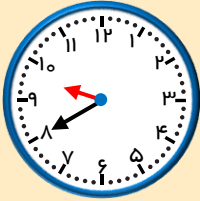
$$40 + 40 = 80$$

۱۳ اکنون ۸۰ ریال دارد.

کامل کن.



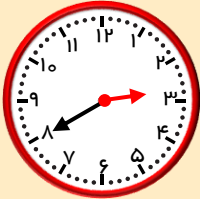
۱۴ ۱۵ دقیقه بعد از ساعت ۱۲ چه ساعتی است؟



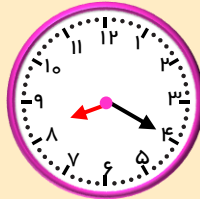
۱۰ دقیقه بعد از ساعت ۳:۰۹ را نشان بده. چه ساعتی می شود؟



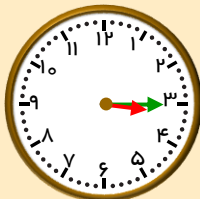
۳۰ دقیقه بعد از ساعت ۷ چه ساعتی است؟



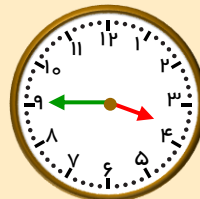
۲۵ دقیقه بعد از ساعت ۱۵:۰۲ دقیقه را نشان بده. چه ساعتی می شود؟



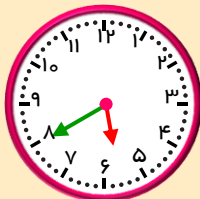
۱۵ کسرا ساعت ۸:۲۰ دقیقه به مدرسه رسیده است.



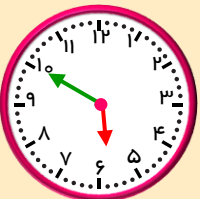
نیم ساعت بعد



۳ : ۴۵



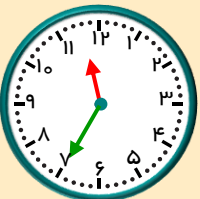
۱۰ دقیقه بعد



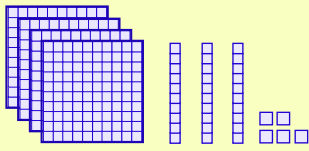
۷ : ۲۰



یک ربع بعد




۱۱ : ۳۰



ص	د	ی
۴	۳	۵

به رقم: ۴۳۵

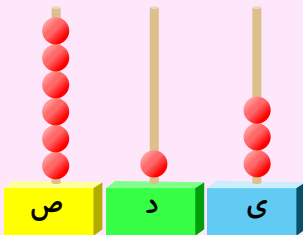
به حروف: چهارصد و سی و پنج



ص	د	ی
۵	۶	۵

به رقم: ۵۶۵

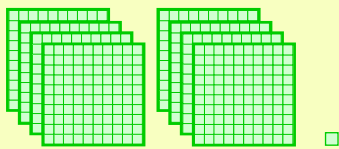
به حروف: پانصد و شصت و پنج



ص	د	ی
۶	۱	۳

به رقم: ۶۱۳


به حروف: ششصد و سیزده



ص	د	ی
۸	۰	۱

به رقم: ۸۰۱

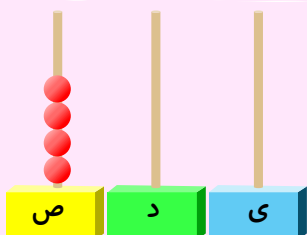
به حروف: هشتصد و یک



ص	د	ی
۳	۰	۷

به رقم: ۳۰۷

به حروف: سیصد و هفت



ص	د	ی
۴	۰	۰

به رقم: ۴۰۰

به حروف: چهارصد

۳ دسته صدتایی و ۴ دسته ده تایی

به رقم: ۳۴۰

به حروف: سیصد و چهل

ص	د	ی
۳	۴	۰

۵ دسته صدتایی و ۲ دسته ۱۰ تایی و ۶ تا یکی

به رقم: ۵۲۶

به حروف: پانصد و بیست و شش

ص	د	ی
۵	۲	۶

۴ دسته ۱۰۰ تایی و ۵ تا یکی

به رقم: ۴۰۵

به حروف: چهارصد و پنج

ص	د	ی
۴	۰	۵

۷ دسته صدتایی


به رقم: ۷۰۰

به حروف: هفتصد

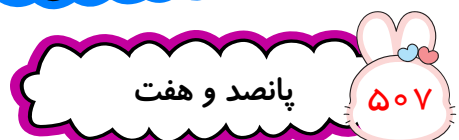
ص	د	ی
۷	۰	۰

۱۰۰ ۲۰۰ ۳۰۰ ۴۰۰ ۵۰۰ ۶۰۰ ۷۰۰ ۸۰۰ ۹۰۰


صد دو بیست سیصد چهار صد پانصد ششصد هفتصد هشتصد نهصد



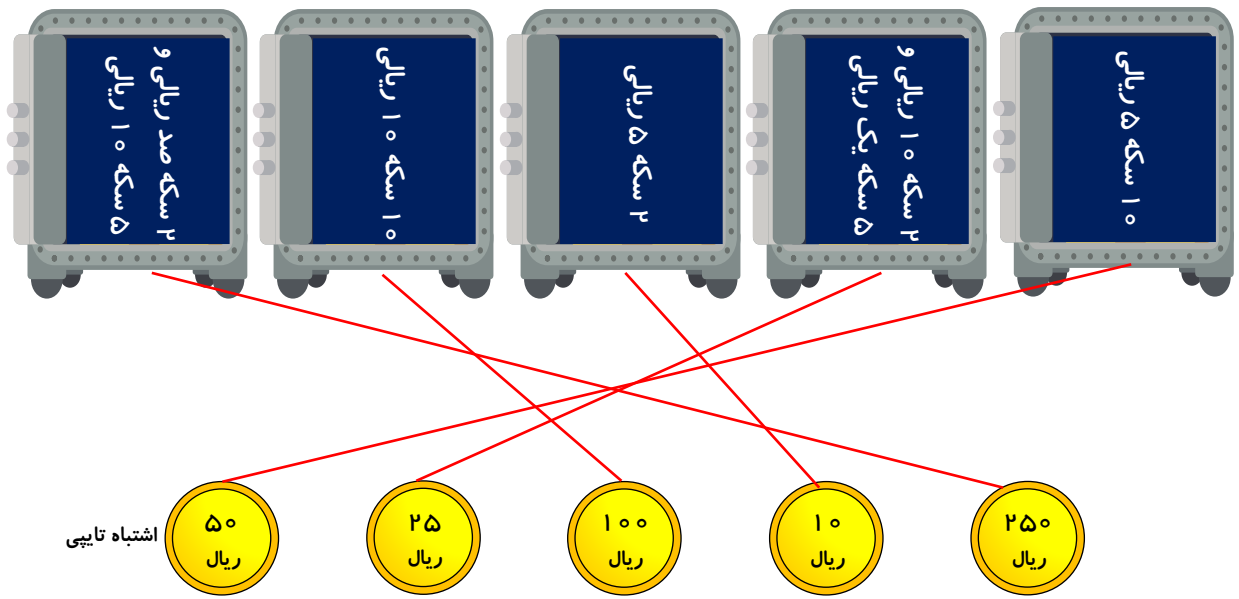
۲۰



۲۱




۲۲



۲۳ قیمت توپ ۵۳۴ ریال است.

۲۴



۲۵



خلاق باش.

۲۶ باز پاسخ ، برای مثال



حل مسئله (حذف حالت های نامطلوب)



۲۷ عدد سه رقمی درست شد.



$$۲۵۹ - ۲۹۵ - ۵۹۲ - ۵۲۹ - ۹۲۵ - ۹۵۲$$

اشتباه تایی



۲۸ عدد سه رقمی درست شد.



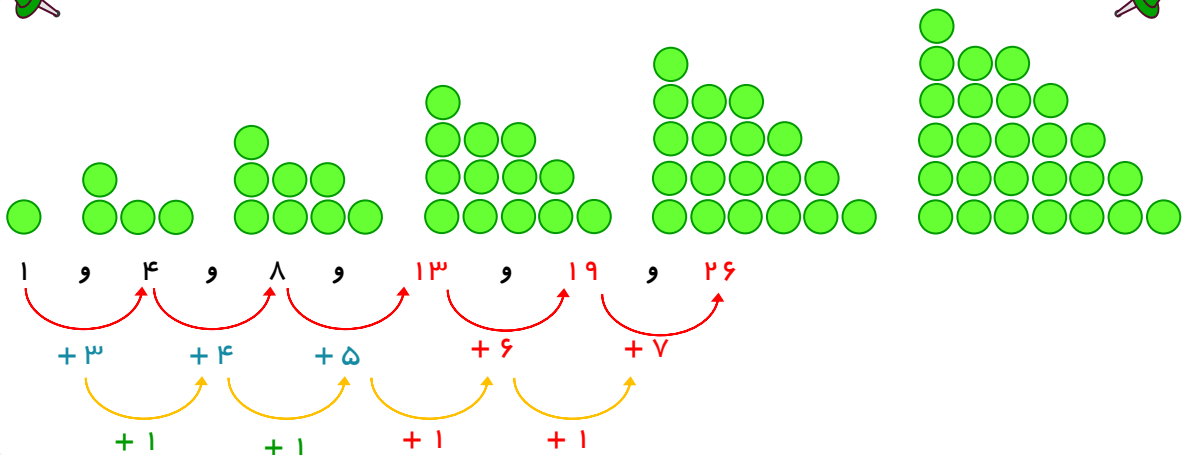
$$۵۹۰ - ۵۰۹ - ۹۰۵ - ۹۵۰$$

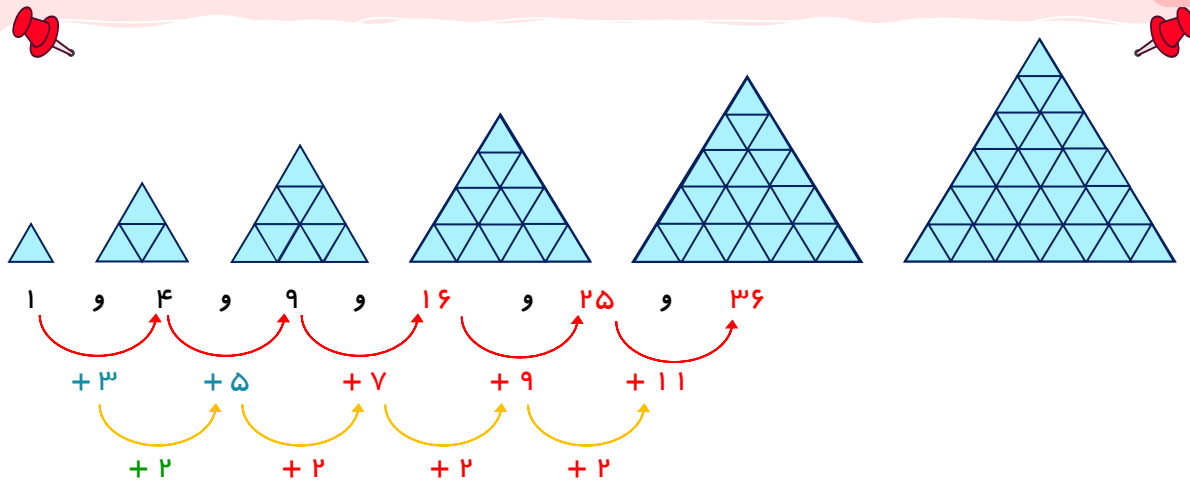
۲۹ چون صفر را نمی توانیم در جایگاه صدگان قرار دهیم.

۳۰ ۵۲۹

الگویابی کن.

۳۱





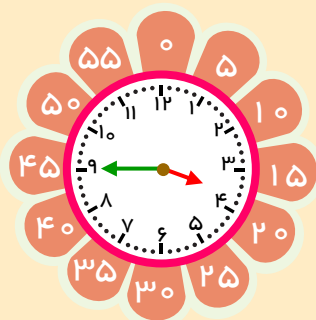
$$۴۶۹ - ۶۴۹ - ۹۴۶ \quad ۳۳$$

$$۲۰۳ : ۳۲۰ - \text{کمترین} : ۲۰۳ \quad ۳۴$$

$$۴۵۹ - ۵۴۹ \quad ۳۵$$

کامل کن.

۳۶ به سوال‌های زیر جواب بده.



03:45

۳:۵۰ ۵ دقیقه بعد از ۳:۴۵ چه ساعتی است؟

۱۱:۴۵ ۲۰ دقیقه بعد از ۱۱:۲۵ چه ساعتی است؟

۸:۲۰ یک ربع بعد از ۸:۰۵ چه ساعتی است؟

۱:۵۰ نیم ساعت بعد از ۱:۲۰ چه ساعتی است؟

12:10 نیم ساعت بعد ۱۲:۴۰

8:50 ۲۰ دقیقه بعد ۹:۱۰

۶:۱۰
۳۵ دقیقه بعد چه ساعتی است؟
۶:۴۵

۲:۲۵
یک ربع بعد چه ساعتی است؟
۲:۴۰

۹:۴۰
۱۰ دقیقه بعد چه ساعتی است؟
۹:۵۰

تقریب اعداد سه رقمی

ص	د	ی
۳	۲	۰

به رقم : ۳۲۰

به حروف : سیصد و بیست

(الف)



ص	د	ی
۳	۵	۰

به رقم : ۳۵۰

به حروف : سیصد و پنجاه



ص	د	ی
۳	۴	۰

به رقم : ۳۴۰

به حروف : سیصد و چهل



ص	د	ی
۳	۳	۰

به رقم : ۳۳۰

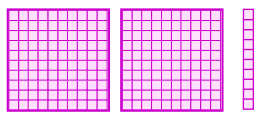
به حروف : سیصد و سی



(ب)

۳۲۰ - ۳۳۰ - ۳۴۰ - ۳۵۰ - ۳۶۰ - ۳۷۰ - ۳۸۰ - ۳۹۰ - ۴۰۰

۴۰



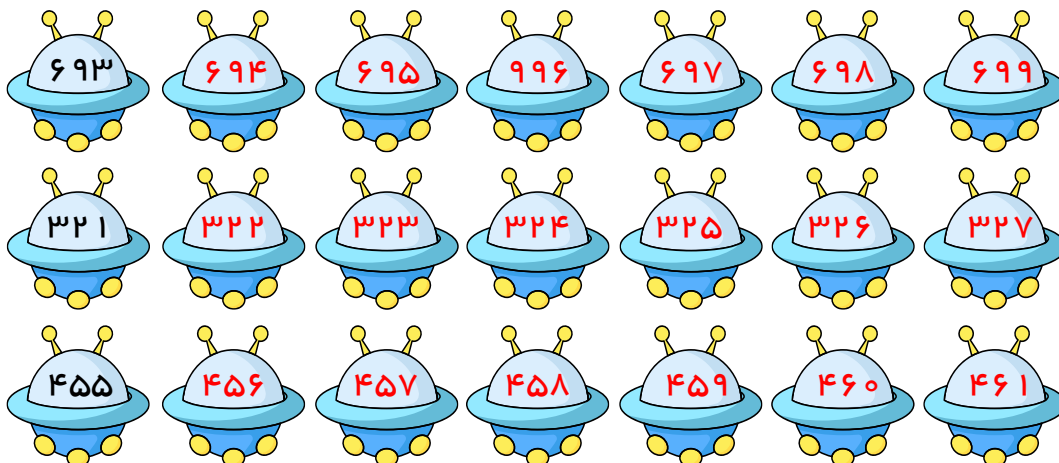
ص	د	ی
۲	۱	۰


به رقم : ۲۱۰

به حروف : دویست و ده

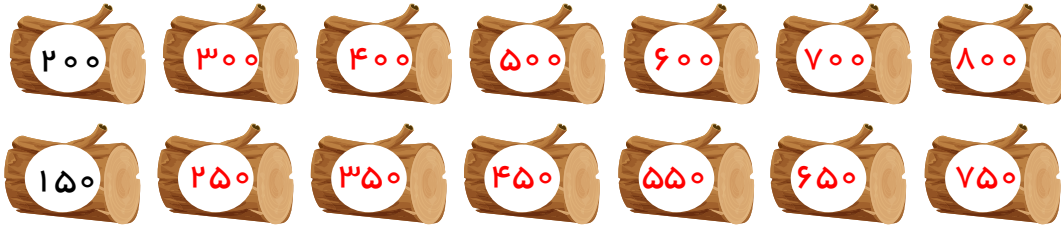
۲۱۰ و ۲۲۰ و ۲۳۰ و ۲۴۰ و ۲۵۰ و ۲۶۰ و ۲۷۰ و ۲۸۰

۴۱

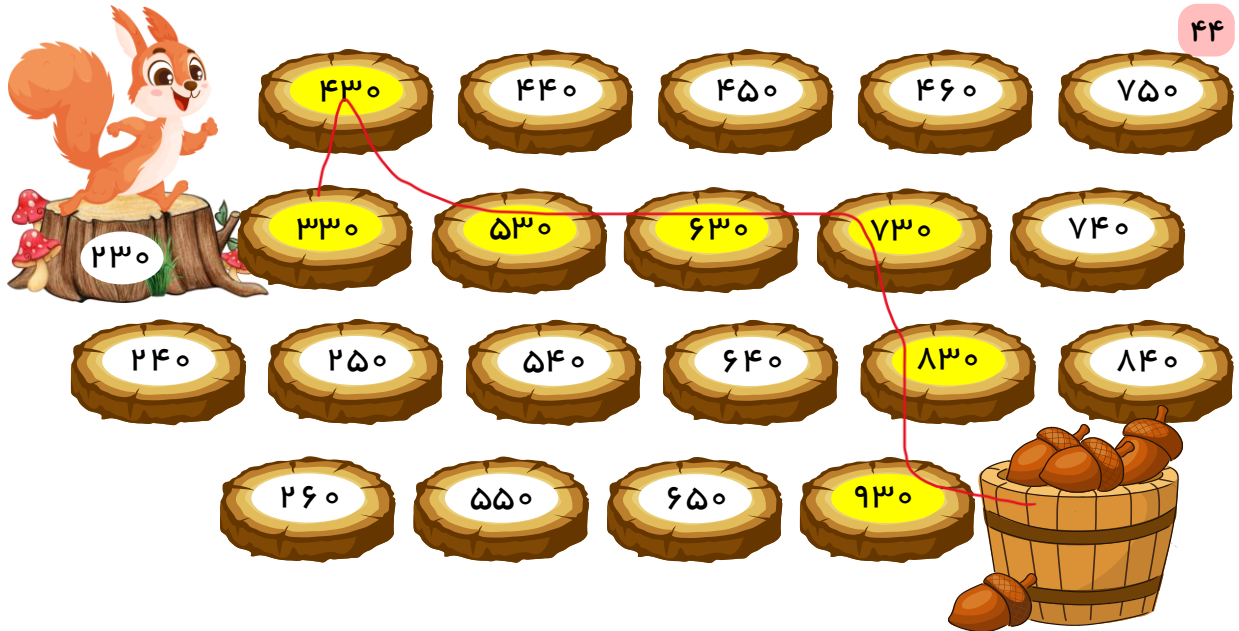




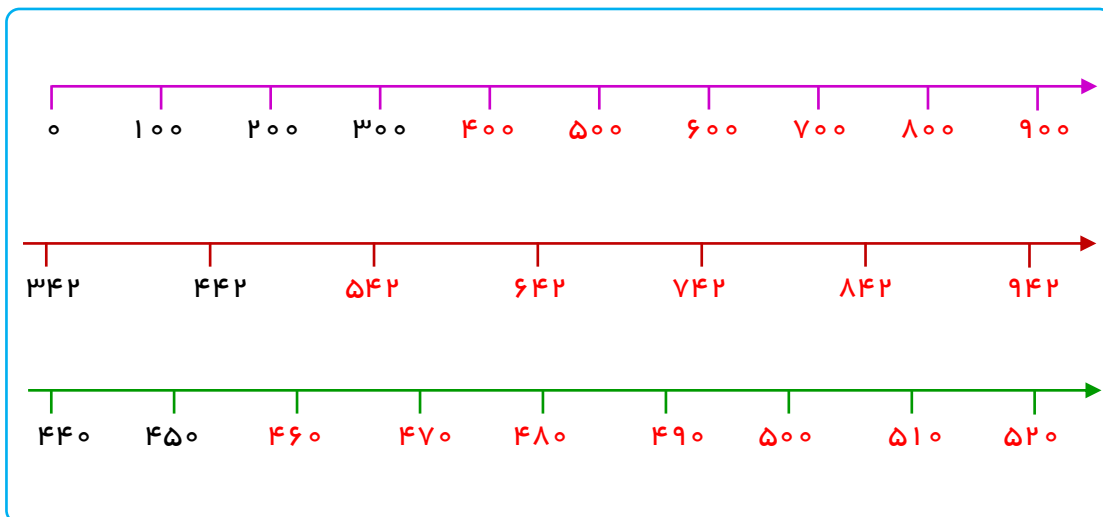
42



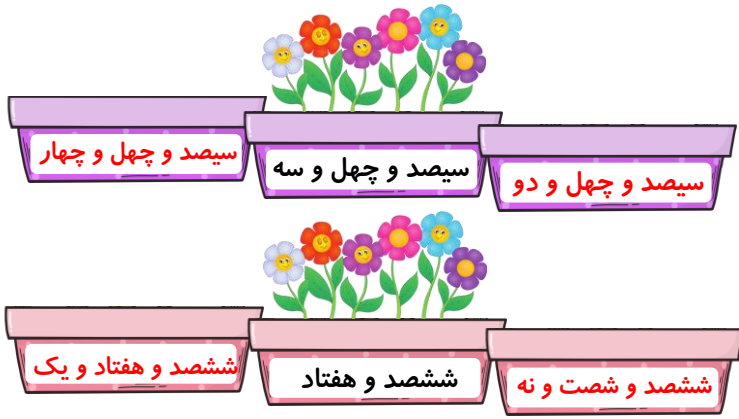
43



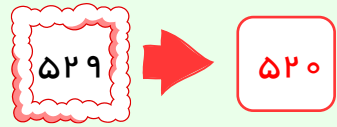
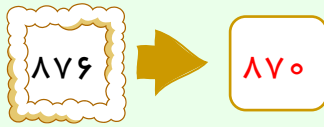
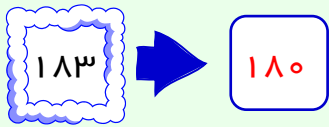
44



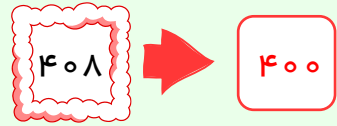
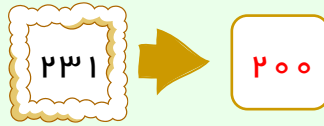
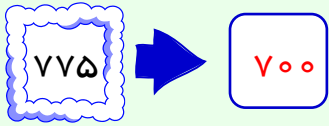
45



تقریب بزن



۴۷



۴۸

۴۹ این حوض نزدیک به ۳۷۰ ماهی دارد.


۵۰




۲۳۳ ریال → ۲۰۰




۴۱۶ ریال → ۴۰۰




۷۵۱ ریال → ۷۰۰

۱۰	۲۰	۳۰	۴۰	۵۰	۶۰	۷۰	۸۰	۹۰	۱۰۰
۱۱۰	۱۲۰	۱۳۰	۱۴۰	۱۵۰	۱۶۰	۱۷۰	۱۸۰	۱۹۰	۲۰۰
۲۱۰	۲۲۰	۲۳۰	۲۴۰	۲۵۰	۲۶۰	۲۷۰	۲۸۰	۲۹۰	۳۰۰
۳۱۰	۳۲۰	۳۳۰	۳۴۰	۳۵۰	۳۶۰	۳۷۰	۳۸۰	۳۹۰	۴۰۰
۴۱۰	۴۲۰	۴۳۰	۴۴۰	۴۵۰	۴۶۰	۴۷۰	۴۸۰	۴۹۰	۵۰۰
۵۱۰	۵۲۰	۵۳۰	۵۴۰	۵۵۰	۵۶۰	۵۷۰	۵۸۰	۵۹۰	۶۰۰
۶۱۰	۶۲۰	۶۳۰	۶۴۰	۶۵۰	۶۶۰	۶۷۰	۶۸۰	۶۹۰	۷۰۰
۷۱۰	۷۲۰	۷۳۰	۷۴۰	۷۵۰	۷۶۰	۷۷۰	۷۸۰	۷۹۰	۸۰۰
۸۱۰	۸۲۰	۸۳۰	۸۴۰	۸۵۰	۸۶۰	۸۷۰	۸۸۰	۸۹۰	۹۰۰
۹۱۰	۹۲۰	۹۳۰	۹۴۰	۹۵۰	۹۶۰	۹۷۰	۹۸۰	۹۹۰	

خلاق باش.



آمادگی برای جمع و تفریق 


۹۱	۹۲	۹۳	۹۴	۹۵	۹۶	۹۷	۹۸	۹۹	۱۰۰
۱۰۱	۱۰۲	۱۰۳	۱۰۴	۱۰۵	۱۰۶	۱۰۷	۱۰۸	۱۰۹	۱۱۰
۱۱۱	۱۱۲	۱۱۳	۱۱۴	۱۱۵	۱۱۶	۱۱۷	۱۱۸	۱۱۹	۱۲۰
۱۲۰	۱۲۱	۱۲۲	۱۲۳	۱۲۴	۱۲۵	۱۲۶	۱۲۷	۱۲۸	۱۲۹

117	98	107	123	118	99	125	130
$+ 9$	$+ 5$	$+ 8$	$+ 4$	$- 9$	$- 4$	$- 7$	$- 8$
126	103	115	127	109	95	118	122

۵۴


$۵ + ۴ = ۹$ $۵۰ + ۴۰ = ۹۰$ $۵۰۰ + ۴۰۰ = ۹۰۰$	$۶ + ۲ = ۸$ $۶۰ + ۲۰ = ۸۰$ $۶۰۰ + ۲۰۰ = ۸۰۰$	$۸ - ۳ = ۵$ $۸۰ - ۳۰ = ۵۰$ $۸۰۰ - ۳۰۰ = ۵۰۰$
--	--	--

۵۵



$۱۰۰ + ۵۰۰ = ۶۰۰$ $۴۰۰ + ۲۰۰ = ۶۰۰$ $۳۰۰ + ۳۰۰ = ۶۰۰$

$۸۰۰ - ۳۰۰ = ۵۰۰$ $۴۰۰ - ۱۰۰ = ۳۰۰$ $۹۰۰ - ۵۰۰ = ۴۰۰$



۵۶

۲۰۷ ۲۰۸ ۲۰۹ ۲۱۰ ۲۱۱ ۲۱۲ ۲۱۳ ۲۱۴ ۲۱۵ ۲۱۶ ۲۱۷ ۲۱۸ ۲۱۹ ۲۲۰ ۲۲۱ ۲۲۲ ۲۲۳ ۲۲۴ ۲۲۵ ۲۲۶ ۲۲۷

۲۰۸ $+ ۱۲$ <hr/> ۲۲۰	۲۱۹ $+ ۸$ <hr/> ۲۲۷	۲۱۷ $- ۹$ <hr/> ۲۰۸	۲۲۵ $- ۷$ <hr/> ۲۱۸	۲۱۵ $+ ۱۱$ <hr/> ۲۲۶	۲۱۴ $- ۶$ <hr/> ۲۰۸
--------------------------------	-------------------------------	-------------------------------	-------------------------------	--------------------------------	-------------------------------

$$\begin{array}{r} ۱۰۵ \\ - ۸ \\ \hline ۹۷ \end{array}$$

۹۷ ریال برایش باقی می ماند. ۵۷

$$\begin{array}{r} ۹۸ \\ + ۶ \\ \hline ۱۰۴ \end{array}$$

حالا کسرا ۱۰۴ امتیاز دارد. ۵۸

۵۹ تعداد دانش آموزانی که گل گرفتند، ۱۱۹ نفر است.

$$\begin{array}{r} 127 \\ - 8 \\ \hline 119 \end{array}$$



















۶۰ تعداد دانش آموزان ۱۲۸ نفر می شود.

$$\begin{array}{r} 123 \\ + 5 \\ \hline 128 \end{array}$$

۶۱

$\begin{array}{r} 259 \rightarrow 200 \\ + 433 \rightarrow + 400 \\ \hline 600 \end{array}$	$\begin{array}{r} 882 \rightarrow 800 \\ - 346 \rightarrow - 300 \\ \hline 500 \end{array}$	$\begin{array}{r} 644 \rightarrow 600 \\ - 577 \rightarrow - 500 \\ \hline 100 \end{array}$
---	---	---

۶۲

 ۱۵۰	 ۱۵۲	 ۱۶۰
 ۴۰۰	 ۴۰۶	 ۴۱۰
 ۷۶۰	 ۷۶۷	 ۷۷۰
 ۳۷۰	 ۳۷۲	 ۳۸۰
 ۲۳۰	 ۲۳۹	 ۲۴۰
 ۶۴۲	 ۶۵۰	 ۶۵۰

خلاق باش.

$$100 + 100 + 100 + 50 = 350$$

$$100 + 100 + 50 + 50 + 50 = 350$$

$$100 + 50 + 50 + 50 + 50 + 50 = 350$$

$$50 + 50 + 50 + 50 + 50 + 50 + 50 = 350$$

۶۳

$$999 = 900 + 90 + 9$$

$$302 = 300 + 2$$

$$540 = 500 + 40$$

۶۴

$$489 = 400 + 80 + 9$$

$$573 = 500 + 70 + 3$$

بازی و ریاضی



۶۵

